

Aivojumppaa alakoululaisille

1. Ratkaise laskutehtävä sijoittamalla oikeat merkit lukujen väliin.

21		3		2	=	9
----	--	---	--	---	---	---

2. Mikä numero tulee kysymysmerkin paikalle?

6	1	2	9
1	4	0	5
4	0	3	7
2	?	1	8


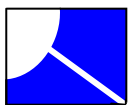
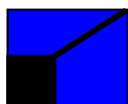
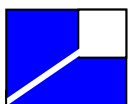
3. Mikä on lukujonon viimeinen luku?

9, 7, 11, 9, 13, 11, ?

4. Mikä kellonaika jatkaa tätä sarjaa?

14.40, 20.55, 03.10, 09.25, 15.40, ?

5. Mikä kuvio tulee seuraavaksi?



A	B
C	D