

Suotyypit ja soiden syntytavat

Avainsanat: biologia, suotyyppi, soistuminen

Luokkataso: 7.-9. lk

Tehtävä 1. Suotyypit. Täytä oheinen taulukko suotyyppin kasvilajeilla ja ominaisuuksilla.


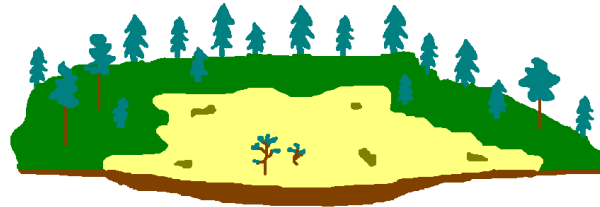
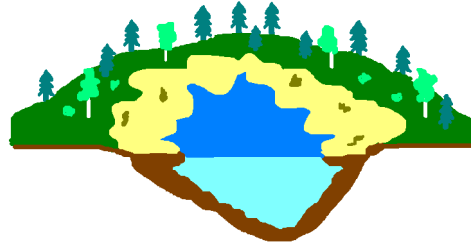
	PUUSTO	KASVIT	KOSTEUS	REHEVYYS
KORPI				
RÄME				
NEVA				
LETTO				

Tehtävä 2. Yhdistä kuva suon syntytapaan ja sitä kuvaavaan selitykseen.

**Metsämaan
soistuminen**

**Merestä kohoavan
maan soistuminen**

**Järven
umpeenkasvu**



**Uutta kosteaa ja
tasaisena pysyvää
maata nousee.**

**Rahkasammal-
kasvusto laajenee
kohti keskustaa ja
peittää lopulta
koko alueen.**

**Kuoppiin ja pai-
nanteisiin kertyy
sadevettä ja lumien
sulamisvettä.**